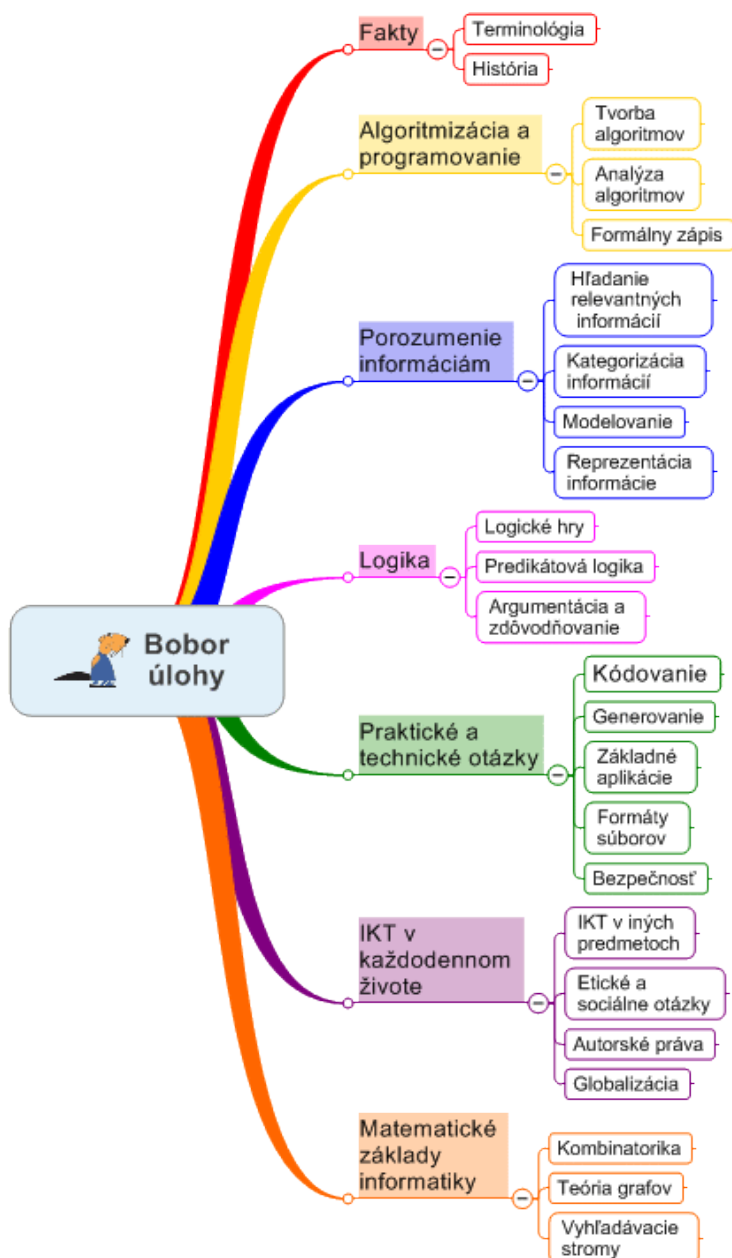


INFORMATICKÁ SÚŤAŽ IBOBOR 2018



Súťaže sa zúčastnilo **77 928** súťažiacich z **979** škôl.

Aké sú úlohy v súťaži?



Na našej škole sa súťažilo:

15. 11. 2018 kategória Junior - žiaci 1. a 2. ročníka

V tejto kategórii súťažilo **7185** žiakov .

Z našej školy sa do súťaže zapojilo **51** žiakov.

iBobor 2018 úspešní riešitelia našej školy:

Poradie	Pohlavie	Meno a priezvisko	Trieda	Kategória	Body
1	chlapec	Martin Murcin	1. A	Junior	70,67
2	dievča	Lujza Klocáňová	1. A	Junior	69,67
3	chlapec	Ľudovít Kováč	1. B	Junior	69,34
4	chlapec	František Kmošek	1. E	Junior	66,67
5	chlapec	Patrik Andel	1. A	Junior	64,01
6	dievča	Bianka Padychová	1. A	Junior	64,01
7	dievča	Natália Blaženačková	1. E	Junior	62,68
8	chlapec	Radoslav Maňák	1. E	Junior	62,67
9	chlapec	Oliver Noga	2. E	Junior	60,02
10	dievča	Viktória Stráňavová	1. A	Junior	60,01
11	dievča	Aneta Szabová	1. B	Junior	58,68
12	chlapec	Viktor Adamčík	1. E	Junior	58,68
13	chlapec	Jozef Sobčák	1. A	Junior	57,35
14	chlapec	Dominik Šmatlava	1. A	Junior	57,35
15	dievča	Zuzana Michalcová	1. A	Junior	57,35
16	chlapec	Jakub Kocúr	1. E	Junior	57,35
17	dievča	Sarah Šoltýsová	2. A	Junior	57,35
18	chlapec	Ľuboš Viater	2. E	Junior	56,02
19	dievča	Mária Sedliačková	1. B	Junior	53,67
20	chlapec	Stanislav Klinovský	1. E	Junior	53,35
21	dievča	Michaela Bialoňová	1. E	Junior	53,35
22	dievča	Zuzana Medzihorská	1. A	Junior	50,68

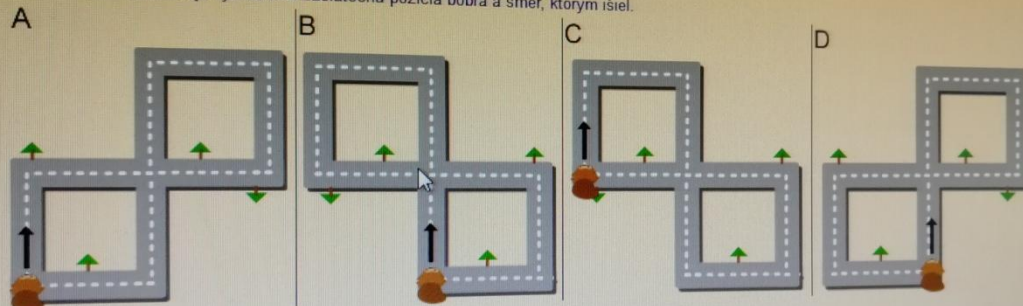
Fotogaléria zo súťaže žiakov



iBobor - súťaž (chlapec z 1.E)

8. Ktorá cesta?

Bobor Filip prešiel na svojej prechádzke 8 kilometrov. Vždy, keď prešiel 1 kilometer, odbočil buď vpravo alebo vľavo. Odbočenie si zapísal do zošita symbolom 1 alebo 0, ale zabudol, ktorý Všímní si, že na ceste je vyznačená začiatočná pozícia bobra a smer, ktorým išiel.



Po ktorých z týchto ciest mohol ísť?

- A alebo D
- len po ceste B
- B alebo C
- B alebo D

Zmaž odpoveď

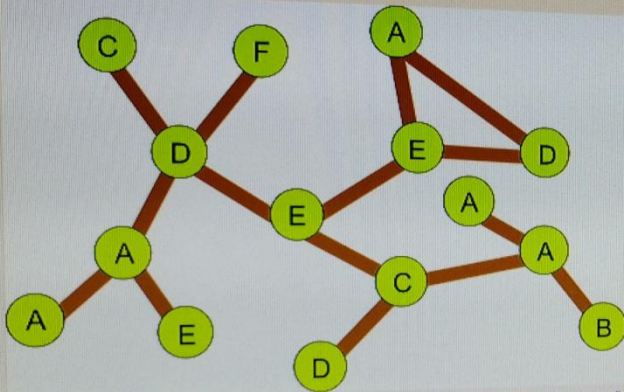
Ulož odpoveď a chod' ďalej



iBobor - súťaž (chlapec z 1.A)

12. Na prechádzke

Na obrázku je mapa parku:



Zelené kruhy s písmenami označujú stromy, napr. A označuje agát, B buk, atď.

Hnedé čiary sú chodníky medzi stromami.

Prechádzku od stromu F k stromu B môžeme zapísať ako postupnosť stromov, popri ktorých pôjdeme:

F D E C A B

V nedeľu o 14:00 si vyšli do parku pán Bobor a pán Jazvec s rodinami. Vieme, že každá rodina prejde chodník medzi dvoma stromami za ten istý čas. Zapisali sme prechádzky oboch rodín.

Prechádzka rodiny pána Bobora: B A A C E D E E D A

Prechádzka rodiny pána Jazveca: F D C D A E A D E D A

Koľkokrát sa obe rodiny stretli pri **nejakom strome**?

- raz
- rodiny sa na prechádzke v nedeľu nestretli pri žiadnom strome
- dvakrát
- trikrát

Zmaž odpoveď